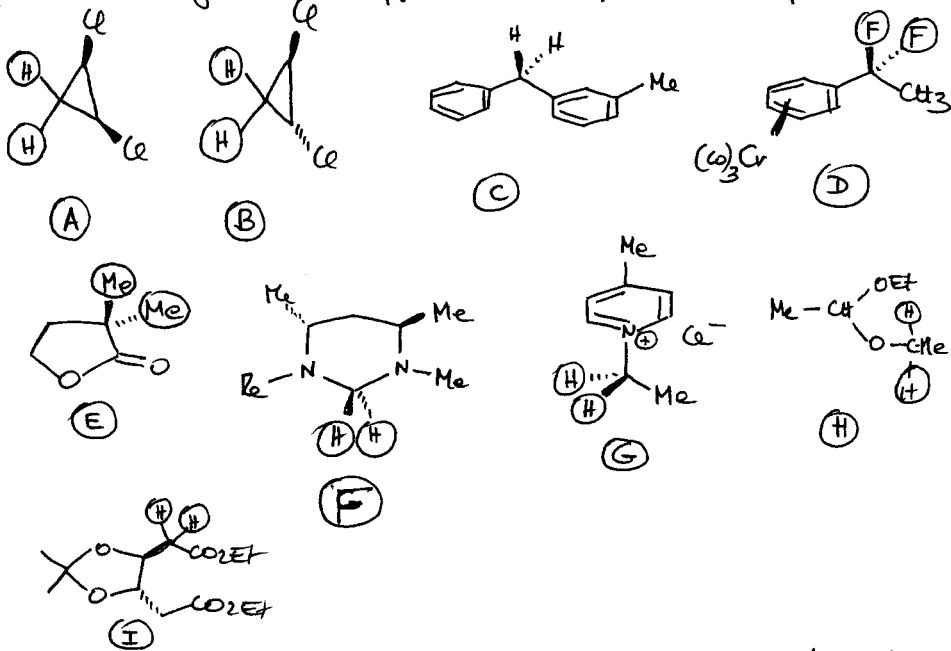



Übung 6 - Weihnachtsübungen

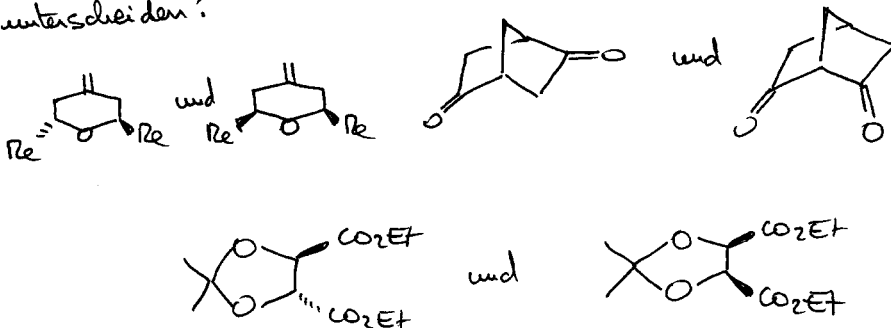
1. Sind die eingekreiste Gruppen enantiotop, diastereotop oder homotop?



2. Zeichnen Sie alle Mono-Epoxidierungsprodukte der folgende Verbindungen. Geben die Beziehungen zwischen den verschiedenen Isomeren.



3. Wie würden Sie folgende Paare chemisch oder spektroskopisch unterscheiden?



FROHE WEIHNACHTEN - FROHES NEUES JAHR!